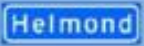









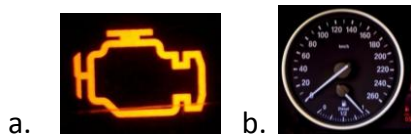


最新的限速规定


Maximum speeds in a chart										
	Inside the built-up area (Helmond is only an example)					Outside the built-up area (Helmond is only an example)				
										
	home zone	30 km zone	motor road	cycle moped path	other roads	60 km zone	motor road	motor way	cycle moped path	other roads
										
motorvehicles with a limited speed and tractors	15	25	n/a	n/a	25	25	n/a	n/a	n/a	25
light mopeds	15	25	n/a	25	25	25	n/a	n/a	25	25
mopeds and powered invalid carriages	15	30	n/a	30	45	45	n/a	n/a	40	45
mobility cars	15	30	n/a	n/a	45	45	n/a	n/a	n/a	45
motorvehicles + trailer (mam < 3500kg)	15	30	50	n/a	50	60	90	90	n/a	80
motorvehicles + trailer (mam > 3500kg)	15	30	50	n/a	50	60	80	80	n/a	80
lorries, trucks and buses	15	30	50	n/a	50	60	80	80	n/a	80
motorcycles, passenger cars and vans	15	30	50	n/a	50	60	100	130	n/a	80

24-07-2014 真题

1. Which symbol represent the engine? → A



2. 一张图上画着 120km/h, 9h-19h, 问现在是 22: 00, 车速是多少? → 130km/h
 3. When you drive on a rush hour lane, is the same speed with other lanes? → Yes.



4. Does it include "electric bike"? → No. Electric bike = bike.
 5. Which sign means that you can not go straight? → B



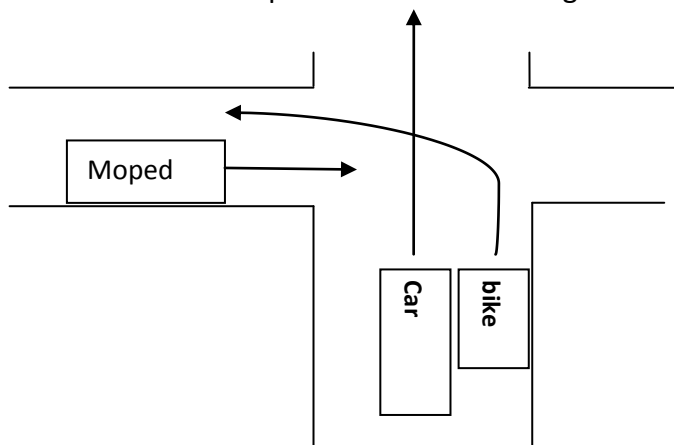
6. 残疾人如果做了轮椅，就是 pedestrian 了，因为能够方便行动了。只有拄拐杖的，是残疾人，要让。

21-08-2014 真题

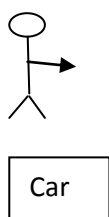
1. When the heavy car and a small car stop, which one has a longer stop distance?
Heavy car
2. Diesel 的车，多久要检测一次， 1jr,2jr,还是 3jr? 1 jr.

23-09-2014 真题

1. What is the correct sequence for the following situation? Car, bike, moped




2. 如图所示，警察右侧身对着你的车，举起右手，你要怎么做? Stop



3. 下面哪一个是 warning light?  选三角形的那个。
4. 突然开始下雪，你要怎么做? A.switch on headlights B.slow down C.switch on rear fog lights. 选 B
5. 标志 D6，问你能否左转? No
6. 你的车后面有拖车，你亮灯的时候，拖车的等也会亮? Yes
7. 上高速，你准备并道的时候，有一辆卡车在你的前面，你怎么做?
A. 快速超越它，并道。 B.开在它后面，然后并道。选 B



8. 有  的居住区, 谁可以使用 whole width of road? A.all the drivers
B. Pedestrains 选 B

其他网友记录的考试真题

1. @Xueqiuqiu: 2012-10-26 (答案全对)

<http://bbs.gogodutch.com/forum.php?mod=viewthread&tid=606517&highlight=2012.10.26>

第一部分:

这部分不多说了, 多做几遍题目就有感觉了, 只有几个经验分享

1. 只要是下雪天, 一定选择 release accelerator. (brake 会打滑)
2. 有球滚出来, 说明有小孩玩耍, 一定选择 brake
3. 只要是看不清楚路口及速度不是很高的情况下, 基本都选择 release accelerator
4. 注意看车是否有 indicator, 这个对题目答案也很重要

第二部分:

1. sign K13 什么意思: direction to the districts of the town
2. which sign is relevant to the engine temperature?---大家自己去查看一下。选择给了俩标, 一个是 cruise control, 一个是 engine temperature
3. 路标是 outside build up area(H2)+priority sign (B1), 也就是郊外的主路上, 问这里可以上下人么? ---ja. 这里不能 park, 但是可以 stop. 这里想说一下, 一定要分清楚 stop 和 parking 在什么情况下禁止。不要混淆
4. sign E5 & E7, 问哪个标志可以上下人, 答案 both. 这里不能 park, 但都可以上下人, 因为上下人是 stop
5. 有盲人或者拿着拐杖骨折的人要在没有斑马线的地方过马路, 让不让? ----JA. 要让路给盲人或者走路困难的人。如果人物变为一个人坐在轮椅上, 不要让, 有了轮椅他就不再是走路困难的人了
6. SHARK TEETH 和 PIANO LINE. 哪个要让其他 DRIVER. -----SHARK TEETH
7. 在一个 T 字路口要左拐, 问 pre-position 的位置--- 靠近中线。因为这个题目上面没有任何路标, 也就是说路是双向的, 这种情况下要在中线, 不能及其靠左
8. 一个 bus 要出站, 让不让? ---这个题目主要是要看清楚是在 build up area 还是 outside build up area. 这次的题目是不让, 因为有个路标 H2
9. 画面有一个 stop sign, 我要右拐, 同时有一个行人和我在同一条路上要直行, 让不让----Ja. 拐弯让直行。 这里要注意: 如果这个行人和我不在一条路上, 也就是我是竖着的路, 他在横着的路上要过马路, 我就不能让, 因为 stop sign 只让 driver, 不让行人
10. 车掉进水里, 什么时候开始逃命---选择马上开始逃命, 不要等待车全部进入水了再逃
11. 有两条 lane 都是直行, 我在左边的 lane, 问是不是一定要换 lane----ja. 要靠右 lane 行驶
12. 问 sign D5 什么意思----must follow the direction

13. 胎压太低会影响 a 耗油 b 抓地力不好 c both -----选择 both
14. 看到事故, a 帮受伤的人 b 保证自身安全----b
15. comprehensive insurance 能 cover 什么----选择对方和自己都能 cover. Comprehensive 本来就是全面嘛, 当然都包。 如果只是 third party insurance, 就只能 cover 对方, 不能 cover 自己.
16. 很多人都提到了, 一个车从 parking place 向外倒车, 问在路上迎面行使的 a 和 b 哪个车有危险-----both
17. 我正在被超车, 对面来了一个大卡车, 我觉得那个超我的车不能完成了, 我应该做什么。
a 闪灯 b 保持原速度 c 减速-----c
18. 林荫大道上, 只有阳光从树叶间洒下来, 用什么灯----dipped light
19. tunel 里面, 用 main beam, 可以么-----no
20. y 形状的路口, 我在路上开着, 右边来了一个 LIGHT MOPED, 我要让他么-----YES. 不管路口什么形状, 只要是 Equal road, 让右边的
21. 轮胎纹路要多深----1.6mm 这次没问到这个题目, 但是考的机率很大
22. 你拉着一个 trailer, 在 out side build up area 的 normal road 上, 限速度多少-----80km/hour
23. 车距受什么影响 a 自己车的长度 b 天气 c 轮胎类型-----b
24. motorcycle+sidecar, 要什么驾照----A 很多人不知 side car 什么样子, 其实就是原来国内那种摩托右边多了一个外挂, 可以再坐一个人
25. 孕妇安全带用成了 lap belt 可以么-----nee
26. 一个十字路口, (假设顺时针四条路分别是 1, 2, 3, 4, 这样好描述) 我在 3 要左拐去 4, 1 出来一辆 moped, 看不出来要往哪里开, 问让不让----Ja. 因为他如果要直行, 我得让。他如果要右拐, 我也得让(大拐弯让小拐弯); 他要是左拐, 不存在让不让的问题。 总结下来就是得让
27. 路上一潭水, 我前面有一辆自行车, 对面过来一个大卡车, 问我怎么作----- drive at walk pace. 也就是跟在自行车后面慢慢开, 不要按 horn
28. 路边停了两辆 coach, 有孩子要上车, 问怎么办----减速慢慢开过去, 不要停下来等 coach 开走, 因为这样做有阻碍交通
29. 一个路口, (假设顺时针四条路分别是 1, 2, 3, 4, 这样好描述) 我在 3 直行向 1 开去, 能看到一个路牌 B5(也就是对右边 2 来的车有优先权), 1 出来一个 tram 要左转去 2,
30. 那种 road mark, 一个红色一个白色的----红色的在右边
31. 一杯啤酒是不是比一杯 gin 酒精含量少-----nee
32. 一个 T 路口, 我要左转, 问要不要让左边来的摩托-----Nee, 他应该让我, 因为我在右边
33. 一个 equal road, 问谁先走-----这个就是顺时针转过去的顺序。 考点就是让右边来得 driver
34. 停在路边的车要开始上路, 要让谁-----让所有的 road user. (driver+pedestrian). 考点就是特殊 movement, 让所有人


2. @neona: 2012-11-23

<http://bbs.gogodutch.com/forum.php?mod=viewthread&tid=618095&highlight=Utrecht%E7%90%86%E8%A%E8%80%83%E8%AF%95%E6%9C%BA%E7%BB%8F>


情景判断

1. 路上有一个皮球： 刹车
2. 时速30，到底拐弯的路上一辆大卡车左转，旁边还有停泊的车辆： 刹车
3. 前方路上有一群鸭子： 刹车
4. 在郊外笔直的公路，时速80，没有任何来往车辆： do nothing
5. 一个十字路口你直走，时速30，右边人行道上有妈妈带着孩子，看着要过马路，我选的刹车，因为离的挺近了。
6. 这道题吃不准：在郊外，本车时速60右边是山，左边一辆车在超你车头已经超过本车，对面有一辆车距离大概30米。我选的release gas。有知道的朋友帮忙确认一下吧。
7. 下雪天，前方是一个拐弯，车速20，我选release gas
8. 高速上你要右转，时速60，我选的do nothing
9. 郊外single carriage way上有2个骑马的，你的车速40： 刹车
10. 城区路上有辆马车，你的时速20，我选的release gas

理论部分

1. 在什么情况下你要给bus让路? a. **Only inside build up area** b. Only outside build up area c. Both inside and outside
2. 在什么情况下你会在路上看见Brommobiel? a. Only inside build up area b. Only outside build up area c. **Both inside and outside**
3. 你要从环岛往右转，旁边红色自行车道上有自行车。问你是否要给自行车让路。 **Yes**
4. 你左边有tram，有乘客下车（没有island）。你要超过tram但是否需要给行人让路？ **Yes**
5. 你后面拖着一个trailer，车牌是自己手写的，问你是否能这样上路？ **NO**
6. 停车位上有辆车在倒车，对面也有辆车。问你哪辆车会有撞车的危险。这题在其他人的机经里见过，我就选的both cars
7. 你停在高速路肩上但是还没有准备上路，问你是否已经需要开始打转向灯。 **NO**
8. 十字路口有，你要直行右边有行人问你让不让行人。 **NO**
9. 路边黄色实线问你不能停下去送个包裹。 **NO**
10. 婴儿座椅在前排，问你什么时候要取消airbag. A. When baby faces the front **B. When baby faces the back**
11. What is the right tyre tread? **A. 1.6mm** B. 2.6mm C. 3.6mm
12. What is the following distance between you and the car in front when driving 120km/h? A. 1 second **B. 2 seconds** C. 5 seconds （念题目的时候本来以为是需要自己算的，没想到直接给这几个选择了）




13. 有的居住区问你能否开30km/h? **NO**

14. 高速上堵车，你在最左边的快速道。问你如果有想超车的摩托车该怎么办? a. nothing b. **move to the left** c. move the right

15. 路口有个限速30牌子，问你是否进入erf? **NO**



16. Motoroad 上有和修车的那个路标，问你能不能停在hard shoulder 接电话。 **NO**



17. 有问你最高时速多少? **80**

18. 高速上你在最左边的快速道行驶，右边两条lane 是空的。问你能否一直这样行驶? **NO**

19. 你在事故现场，有人受伤，问你能否给伤员喝水? **NO**





20. 问你和另一个sign 哪一个警告是warning sign? 三角的

21. 问你怎样驾驶可以省油? a. **cruise control** b. always drive at low gear c. 忘了是啥，反正不是正确答案



22. A.  B.  C.  问你哪个是one way road sign? 肯定是A



23. T字路口，问你哪个标志表示会有车从左边来? (B) A.  B. 

24. 人行道前有一辆自行车和moped，问你你能不能超车? **NO**

25. 问雪天怎么样能避免skidding? a. **release accelerator** b. increase speed c. use handbrake 这题2次考试都有。


26. 问你一杯啤酒 和 dutch gin 的酒精含量一样么? **Yes**

27. 鲨鱼齿和钢琴键，问你哪个标志表示要给其它道路使用者让路? 鲨鱼齿

28. 问你什么情况下可以在白天使用main beam? A. never B. when main beam is used in a funeral procession c. 忘了是什么了，反正不是正确答案。。。 我选的A

29. 你要从路上画着钢琴键的路口左转，你左边有辆电动轮椅，问你要不要让路? **NO** - 因为不是出口



30. 十字路口有，汽车和摩托车在priority road上，还有2个行人。汽车要右转，摩托要左转，行人横过马路。问正确顺序：汽车，摩托，行人

31. 高速路上你在右转的道上问你能否从右侧超车? 我选的**NO**

32. 这道题没有碰见过，知道答案的童鞋帮忙确认一下答案吧。你准备加入高速，前面有辆卡车。问你：

A. 开到卡车旁边的 lane A

B. 直接开到lane B

我选的A，因为觉得好像高速上不能一下超两条道吧

